




Ad : _____
Soyad : _____
Sınıf: _____ No: _____

Test-2

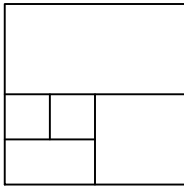
1.



Yukarıda numaralanmış şekiller ortak özelliklerine göre gruplandırılırsa doğru eşleşme hangileri olur?

- A) 1,6 - 2,5 - 3,4
B) 1,6 - 3,5 - 2,4
C) 3,5 - 1,4 - 2,6
D) 1,5 - 2,6 - 3,4

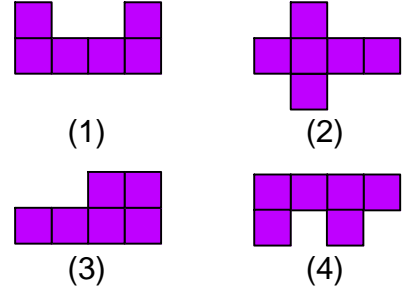
2.



Yukarıda verilen şekilede kaç tane kare vardır?

- A) 4
B) 6
C) 5
D) 7

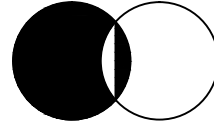
3.



Yukarıda verilen şekilden hangisi bir küpün açılımıdır ?

- A) 1
B) 2
C) 3
D) 4

4.



Yukarıda örnek verilen şekile benzerlik gösteren şekil hangisidir?

