


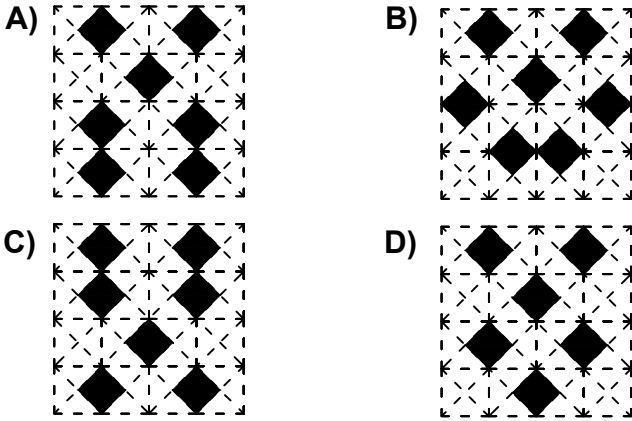


Test-19

12.



Aşağıdaki şekillerden hangisi yukarıda verilen şekil ile aynıdır ?



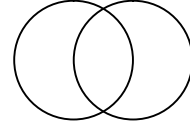
13.



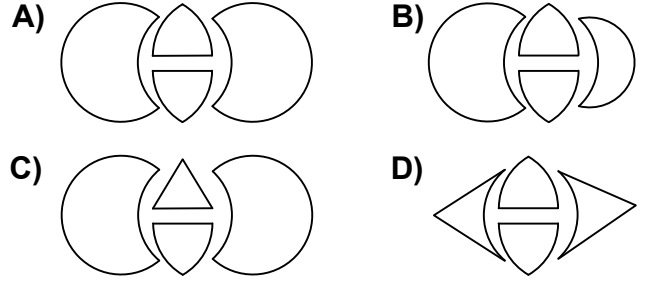
Yukarıdaki resmin bir parçası çıkarılmıştır.
Çıkarılan parça aşağıdakilerden hangisidir?



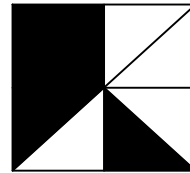
14.



Yukarıda verilen şeklin oluşması için gerekli parçalar hangi seçenekte verilmiştir?



15.



Yukarıdaki şeklin negatifi aşağıdaki şekillerden hangisinde verilmiştir ?

