

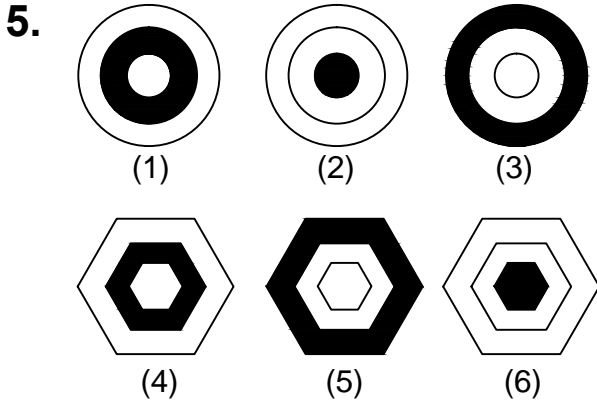
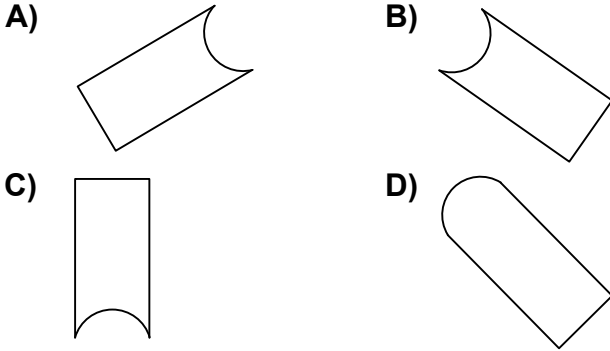


Ad : \_\_\_\_\_  
Soyad : \_\_\_\_\_  
Sınıf: \_\_\_\_\_ No: \_\_\_\_\_

## Test-19

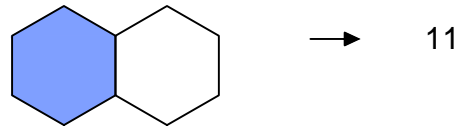
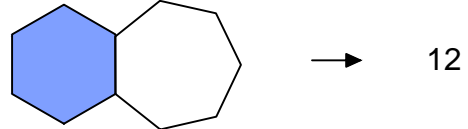
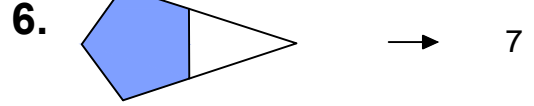
4. Aşağıdaki şekillerde verilen şekillerden biri diğerlerinden farklıdır.

Farklı olan şekil hangisidir?

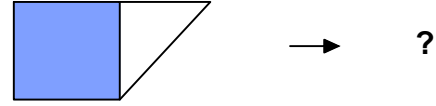


Yukarıda numaralanmış şekiller ortak özelliklerine göre gruplandırılırsa doğru eşleşme hangileri olur?

- A) 1,6 - 2,5 - 3,4  
B) 1,6 - 3,5 - 2,4  
C) 1,4 - 2,6 - 3,5  
D) 1,5 - 2,6 - 3,4

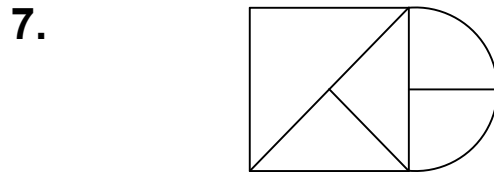


Yukarıdaki şekil - sayı eşleşmesine göre



eşleşmesinde " ? " yerine hangisi getirilmelidir?

- A) 6 B) 8  
C) 10 D) 13



Yukarıdaki şekil bir çok küçük şeklin bir araya gelmesi ile oluşmuştur.

Aşağıdaki şekillerden hangisi yukarıdaki şekilde yoktur ?

