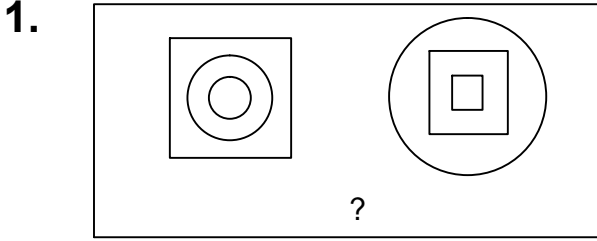


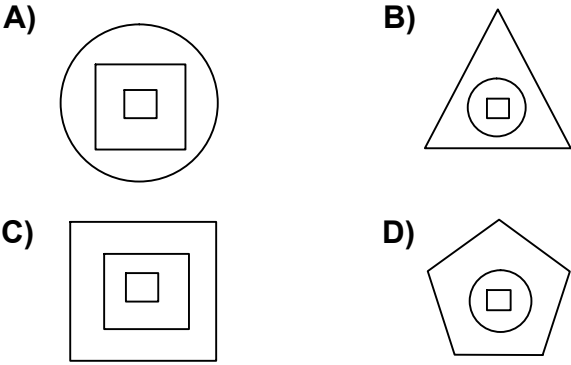


Test-18

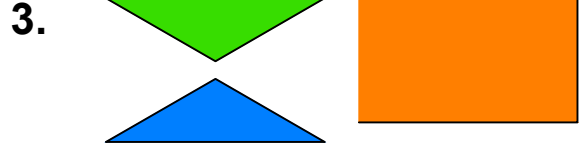
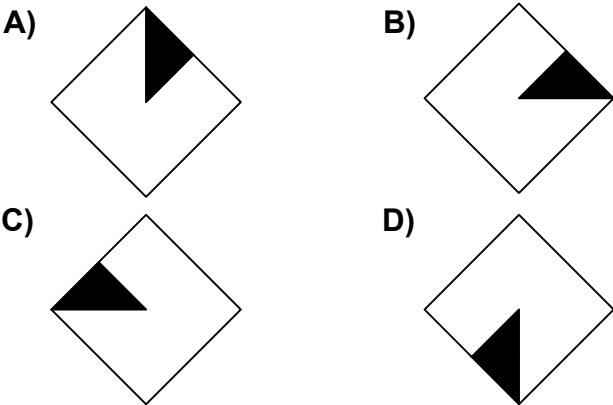


Yukarıdaki şekil grubunda ortak bir özellik vardır.

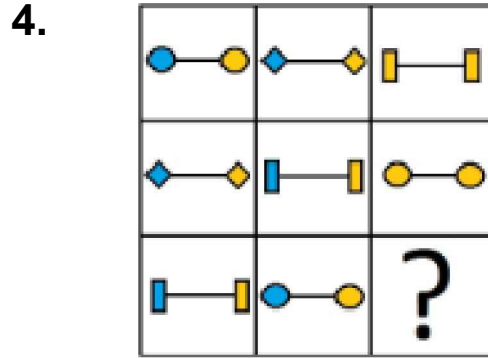
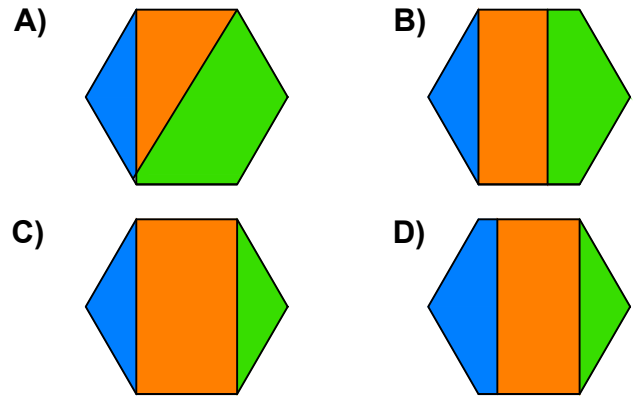
Bu özellik aşağıdakilerden hangisinde vardır?



2. Bir şeklin etrafında döndürülerek oluşturulan aşağıdaki şekillerden hangisi diğerlerinden farklıdır ?



Yukarıda verilen parçalar ile aşağıdaki şekillerden hangisi oluşturulabilir ?



Yukarıdaki şekiller soldan sağa belli bir kurala göre dizilmiştir.

Buna göre "?" olan kutucuğa aşağıdakilerden hangisi gelmelidir ?

