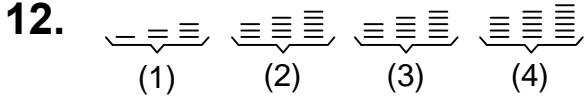




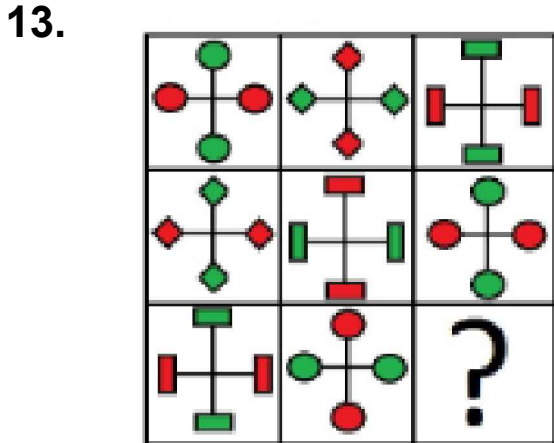
Ad : \_\_\_\_\_  
Soyad : \_\_\_\_\_  
Sınıf: \_\_\_\_\_ No: \_\_\_\_\_

## Test-17



Yukarıda verilen dizi bir sıraya göre dizilmiştir.  
Dizilerden sırayı bozan hangisidir?

- A) 1 B) 3  
C) 2 D) 4




Yukarıdaki şekiller soldan sağa belli bir kurala göre dizilmiştir.

Buna göre "?" olan kutucuğa aşağıdakilerden hangisi gelmelidir ?

- A) B)   
C) D)

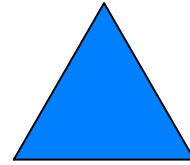
14.



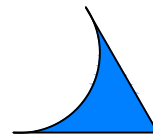
Yukarıdaki resmin bir parçası çıkarılmıştır.  
Çıkarılan parça aşağıdakilerden hangisidir?

- A) B)   
C) D)

15.



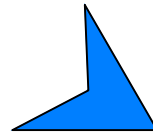
Yukarıda verilen şekli elde edebilmek için aşağıdaki şekillerden hangi ikisi birleştirilmelidir?



1. Şekil



2. Şekil



3. Şekil



4. Şekil

- A) 1 ve 2 B) 3 ve 2  
C) 1 ve 3 D) 3 ve 4