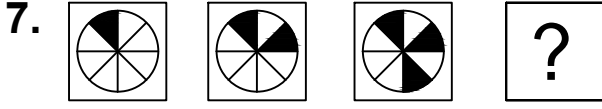




Test-16



Yukarıda verilen şekiller bir kurala göre sonlu bir şekil dizisi oluşturmaktadır.

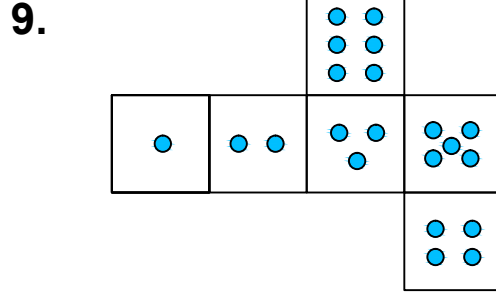
Buna göre "?" yerine hangi seçenekteki şekil getirilmelidir?

- A)
- B)
- C)
- D)

8. Aşağıdaki şekillerde verilen şekillerden biri diğerlerinden farklıdır.

Farklı olan şekil hangisidir?

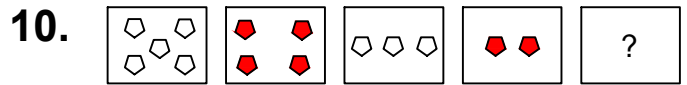
- A)
- B)
- C)
- D)



Yukarıda verilen şekil kapatıldığında bir küp oluşmaktadır.

Bu küp aşağıdakilerden hangisi olabilir?

- A)
- B)
- C)
- D)



Yukarıda verilen dizi bir sıraya göre dizilmiştir.

Buna göre "?" yerine aşağıdakilerden hangisi gelmelidir?

- A)
- B)
- C)
- D)