




## Test-16

4.



Yukarıdaki şekiller soldan sağa belli bir kurala göre dizilmiştir.

Buna göre "?" olan kutucuğa aşağıdakilerden hangisi gelmelidir ?

A)



B)



C)



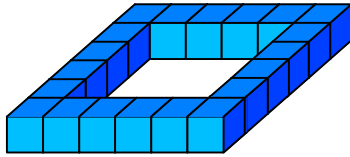
D)



5.



1 birim  
küp



Yukarıda verilen şekil aynı büyüklükteki küp bloklardan oluşmaktadır.

Şekilde toplam kaç küp vardı?


A) 21

B) 20


C) 18

D) 19

6.




Yukarıda verilen şekili oluşturabilmek için aşağıdaki şekillerden hangi ikisi tamamen kullanılmalıdır ?



1. Şekil

2. Şekil



3. Şekil

4. Şekil

A) 1 ve 2

B) 1 ve 3

C) 3 ve 4

D) 1 ve 4