



Ad : \_\_\_\_\_  
Soyad : \_\_\_\_\_  
Sınıf: \_\_\_\_\_ No: \_\_\_\_\_

## Test-15

12. 

7	6	5	4	?
---	---	---	---	---

Yukarıda verilen dizi bir sıraya göre dizilmiştir.

Buna göre "?" yerine aşağıdakilerden hangisi gelmelidir?

- A) 

1
---

      B) 

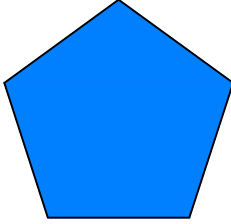
2
---
- C) 

3
---

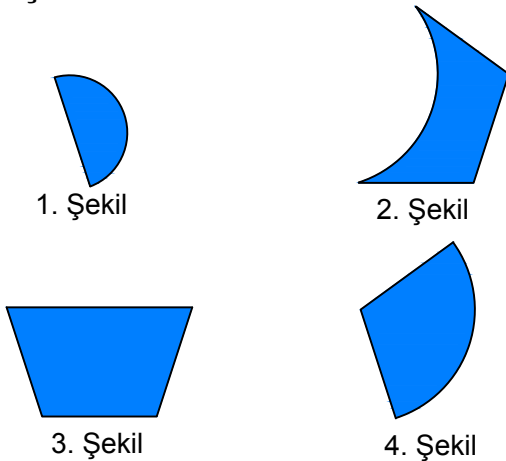
      D) 

4
---

13.

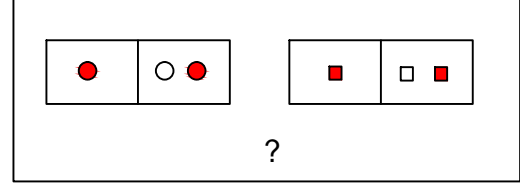


Yukarıda verilen şekili elde edebilmek için aşağıdaki şekillerden hangi ikisi birleştirilmelidir?



- A) 2 ve 4      B) 3 ve 2  
C) 1 ve 3      D) 3 ve 4

14.

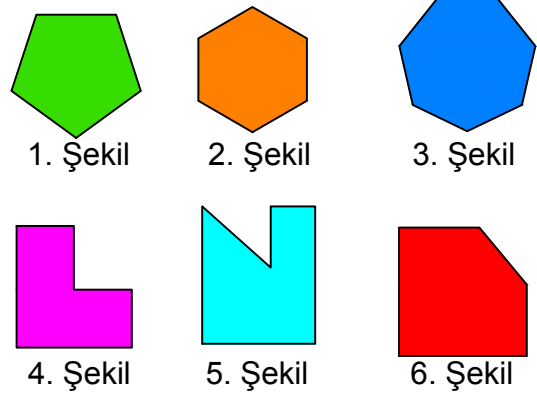


Yukarıdaki şekil grubunda ortak bir özellik vardır.

Bu özellik aşağıdakilerden hangisinde vardır?

- A)
- B)
- C)
- D)

15.



Yukarıda verilen şekiller ikiye ayrılarak benzer özelliklere sahiptir.

Buna göre benzer özellik taşıyan şekiller aşağıdakilerden hangisinde doğru olarak gruplanmıştır?

- A) 2,4 - 1,5 - 3,6  
B) 1,6 - 2,4 - 3,5  
C) 2,4 - 1,1 - 3,6  
D) 2,6 - 1,5 - 3,4