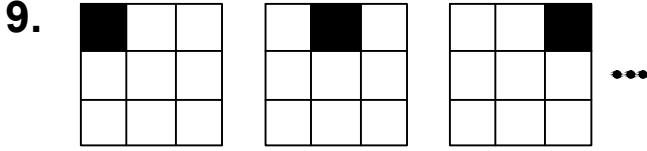




Ad : _____
Soyad : _____
Sınıf: _____ No: _____

Test-14

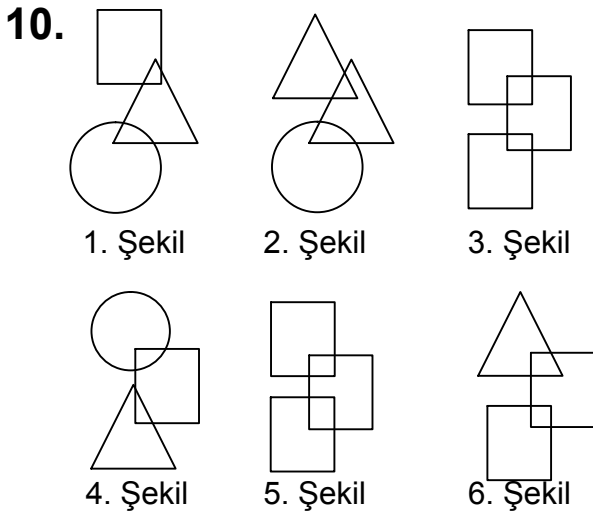


1. Şekil 2. Şekil 3. Şekil

Yukarıda verilen şekil dizisi belli bir kurala göre sıralanmıştır.

Bu kurala göre birinci şekil kaçınıncı şekilde yenilenir?

- A) 8 B) 4
C) 10 D) 6




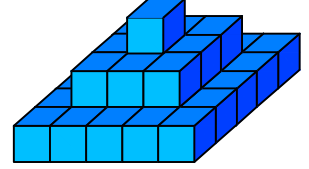
1. Şekil 2. Şekil 3. Şekil
4. Şekil 5. Şekil 6. Şekil

Yukarıda verilen şekiller ikişerli olarak benzer özelliklere sahiptir.

Buna göre benzer özellik taşıyan şekiller aşağıdakilerden hangisinde doğru olarak gruplanmıştır?

- A) 2,4 - 1,5 - 3,6
B) 1,6 - 2,4 - 3,5
C) 1,4 - 2,6 - 3,5
D) 2,6 - 1,5 - 3,4

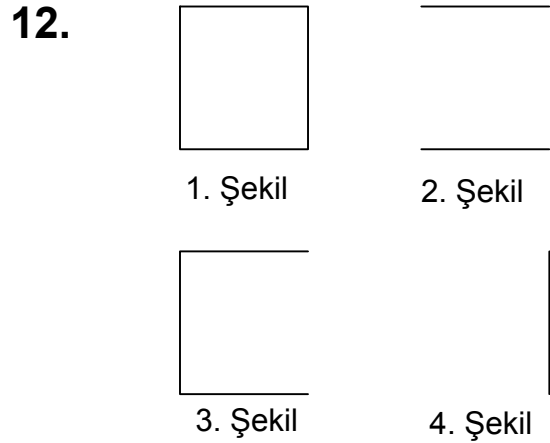
11.  → 1 birim küp



Yukarıda verilen şekil aynı büyüklükteki küp bloklardan oluşmaktadır.

Şekilde toplam kaç küp vardı?

- A) 30 B) 34
C) 32 D) 35



Yukarıda verilen dizi 1. şekil başlangıç olmak üzere belli bir sıraya göre dizilmiştir.

Buna göre dizinin bozulmaması için hangi iki şekil yer değiştirmelidir ?

- A) 2 - 3 B) 3 - 5
C) 2 - 4 D) 3 - 4