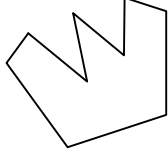




Test-14

5.

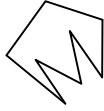


Yukarıdaki şekil aşağıdaki şekillerden hangisi ile birleşirse bir beşgen oluşur ?

A)



B)



C)



D)



6.




1. Şekil



2. Şekil



3. Şekil



4. Şekil



5. Şekil



6. Şekil

Yukarıda verilen dizi 1. şekil başlangıç olmak üzere belli bir sıraya göre dizilmiştir.

Buna göre dizinin bozulmaması için hangi iki şekil yer değiştirmelidir ?

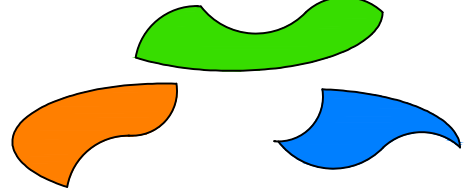
A) 2 - 5

B) 3 - 5

C) 2 - 4

D) 3 - 4

7.



Yukarıda verilen parçalar ile aşağıdaki şekillerden hangisi oluşturulabilir ?

A)



B)




C)



D)



8.



Yukarıdaki resmin bir parçası çıkarılmıştır.
Çıkarılan parça aşağıdakilerden hangisidir?

A)



B)



C)



D)

