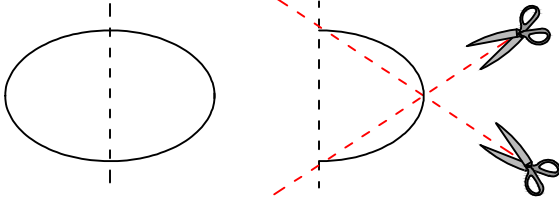




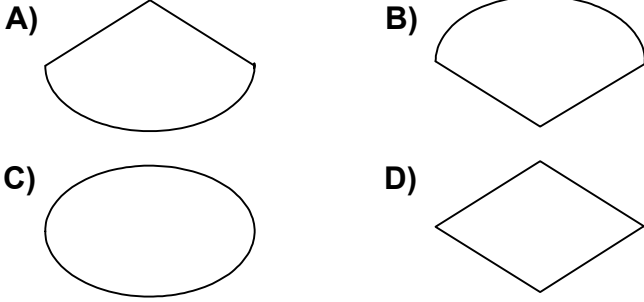
Test-14

1.

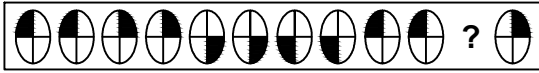


Şekil-1'deki kağıt Şekil-2'deki gibi katlanıp kesikli çizgilerle gösterilen yerlerinden kesiliyor.


Kağıt katlandığı yerden tekrar açıldığında aşağıdaki şekillerden hangisi meydana gelir ?



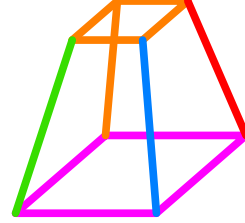
2.



Yukarıda verilen dizi bir sıraya göre dizilmiştir. Buna göre "?" yerine hangi şekil gelmelidir?

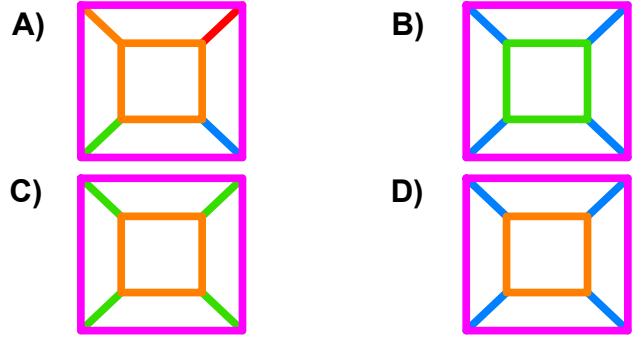


3.



Yukarıda üç boyutlu bir geometrik cismin resmi görülmektedir.

Bu şeklin yukarıdan görünüşü aşağıdaki şekillerden hangisidir?



4.



Yukarıda verilen dizi bir sıraya göre dizilmiştir.

Buna göre "?" yerine aşağıdakilerden hangisi gelmelidir?

