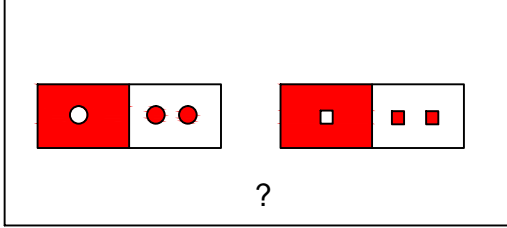




Test-13

9.

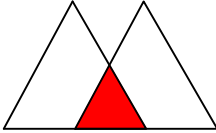


Yukarıdaki şekil grubunda ortak bir özellik vardır.

Bu özellik aşağıdakilerden hangisinde vardır?

- A) B) C) D)

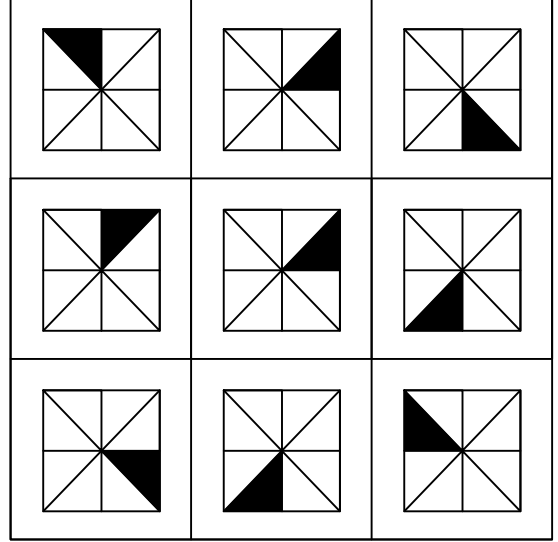
10.



Yukarıda örnek verilen şekile benzerlik gösteren şekil hangisidir?

- A) B) C) D)

11.



Her sıradaki şekiller belli bir kurala göre dizi oluşturmaktadır.

Buna göre kuralı bozan şekil aşağıdakilerden hangisinde verilmiştir?

- A) B) C) D)