



## Test-13

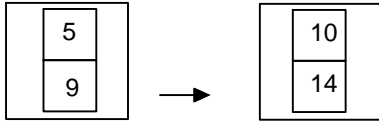
5.



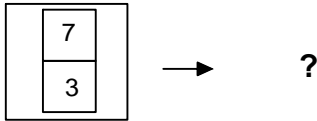
Yukarıdaki resmin bir parçası çıkarılmıştır.  
Çıkarılan parça aşağıdakilerden  
hangisidir?

- A) B)   
C) D)

6.



1. Şekil 2. Şekil




3. Şekil


1. şekil ve 2. şekil arasında bir ilişki  
bulunmaktadır.  
Benzer ilişki 3. şekil ile hangisi arasında  
vardır

- A) B)   
C) D)


7.




1. Şekil




2. Şekil



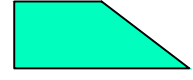
3. Şekil



4. Şekil



5. Şekil



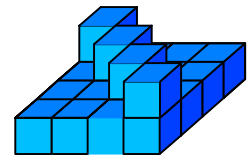
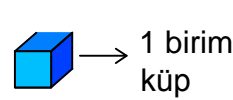
6. Şekil

Yukarıda verilen şekiller ikiye bölünebilir olarak benzer  
özelliklere sahiptir.

Buna göre benzer özellik taşıyan şekiller  
aşağıdakilerden hangisinde doğru olarak  
gruplanmıştır?

- A) 2,5 - 1,4 - 3,6  
B) 1,6 - 2,4 - 3,5  
C) 2,3 - 1,4 - 5,6  
D) 1,5 - 2,4 - 3,6

8.



Yukarıda verilen şekil aynı büyüklükteki küp  
bloklardan oluşmaktadır.

Şekilde toplam kaç küp vardı?

- A) 19 B) 20  
C) 21 D) 22