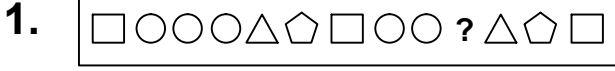




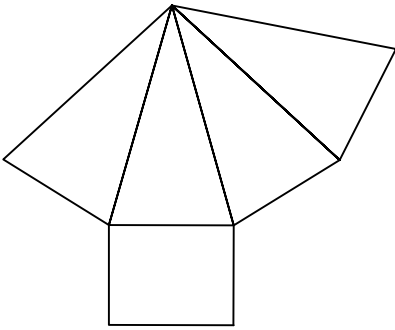
Test-13



Yukarıda verilen dizi bir sıraya göre dizilmiştir.
**Buna göre "?" yerne hangi şekil
gelmelidir?**

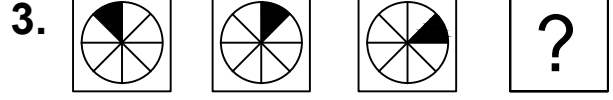
- A) B)
C) D)

2.



Yukarıda verilen şeklin kapalı durumu
aşağıdakilerden hangisidir ?

- A) B)
C) D)

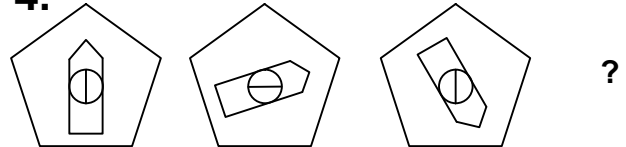


Yukarıda verilen şekiller bir kurala göre sonlu
bir şekil dizisi oluşturmaktadır.

**Buna göre "?" yerine hangi seçenekteki
şekil getirilmelidir?**

- A) B)
C) D)

4.



1. Şekil 2. Şekil 3. Şekil 4. Şekil

Yukarıda verilen dizi bir sıraya göre dizilmiştir.
**Buna göre "?" yerne hangi şekil
gelmelidir?**

- A) B)
C) D)