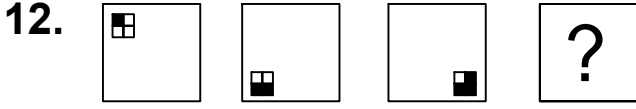




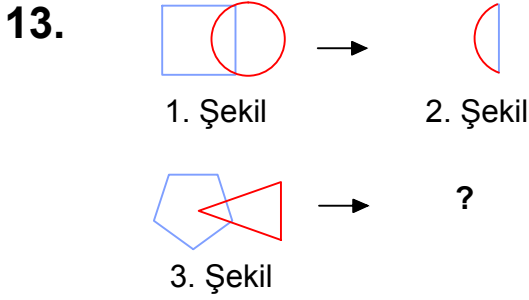
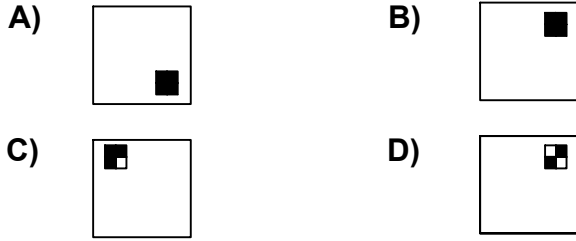
Ad : _____
Soyad : _____
Sınıf: _____ No: _____

Test-12



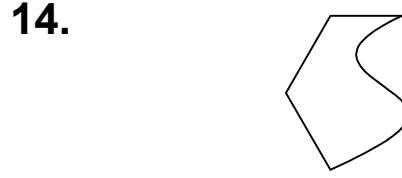
Yukarıda verilen şekiller bir kurala göre sonlu bir şekil dizisi oluşturmaktadır.

Buna göre "?" yerine hangi seçenekteki şekil getirilmelidir?

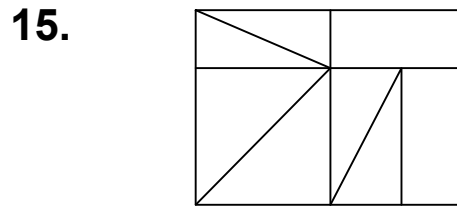
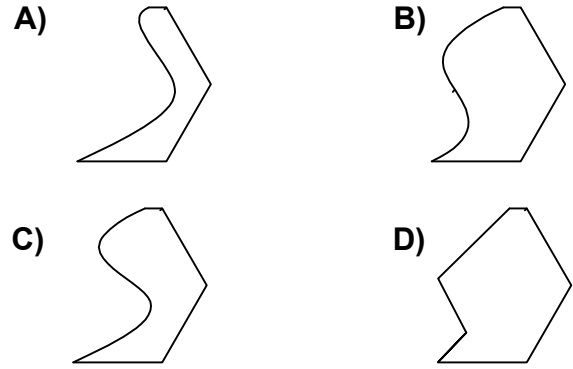


1. şekil ve 2. şekil arasında bir ilişki bulunmaktadır.

Benzer ilişki 3. şekil ile hangisi arasında vardır



Yukarıdaki şekil aşağıdaki şekillerden hangisi ile birleşirse bir altıgen oluşur ?



Yukarıdaki şekil bir çok küçük şeklin bir araya gelmesi ile oluşmuştur.

Aşağıdaki şekillerden hangisi yukarıdaki şekilde yoktur ?

