




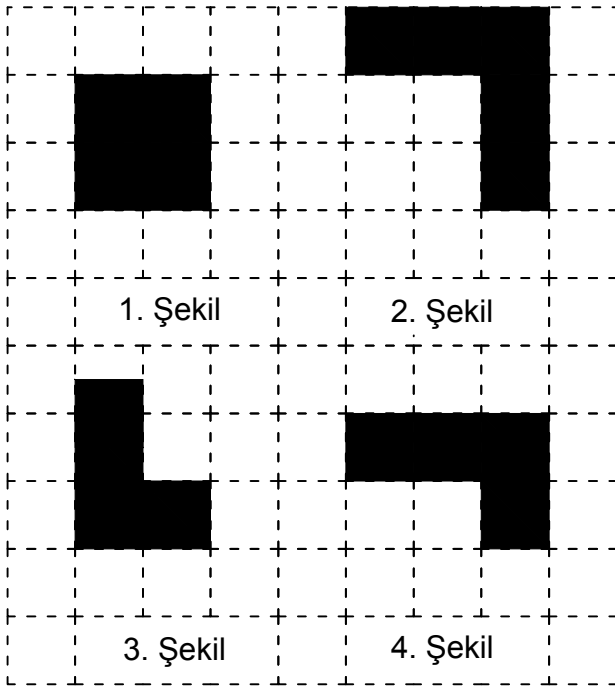
Ad : \_\_\_\_\_  
Soyad : \_\_\_\_\_  
Sınıf: \_\_\_\_\_ No: \_\_\_\_\_

## Test-12

9.



Yukarıda verilen şekili oluşturabilmek için aşağıdaki şekillerden hangi ikisi tamamen kullanılmalıdır ?



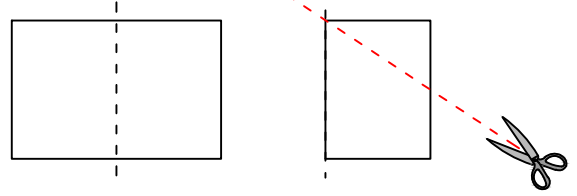
A) 1 ve 2

B) 1 ve 3

C) 3 ve 4

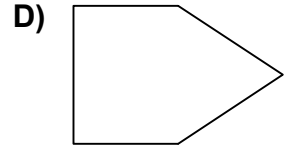
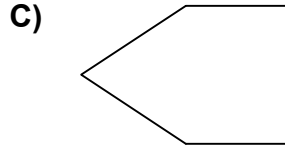
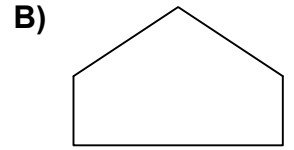
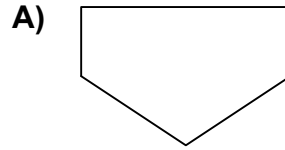
D) 1 ve 4

10.



Şekil-1'deki kağıt Şekil-2'deki gibi katlanıp kesikli çizgilerle gösterilen yerlerinden kesiliyor.

**Kağıt katlandığı yerden tekrar açıldığında aşağıdaki şekillerden hangisi meydana gelir ?**



11. Aşağıdaki seçeneklerde verilen şekiller çizgi boyunca katlandığında üst üste gelen (çakışan) şekil hangisidir.

