




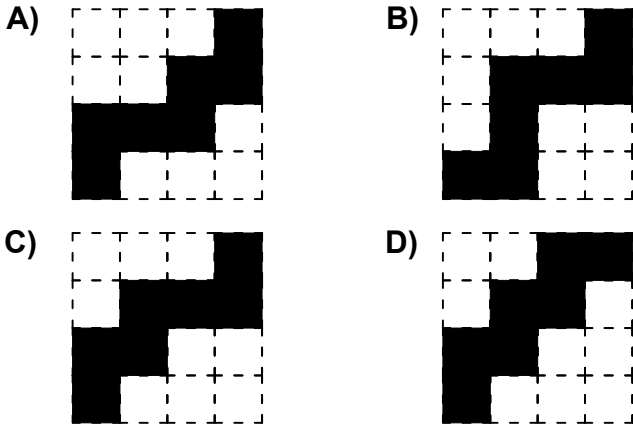
Ad : _____
Soyad : _____
Sınıf : _____ No : _____

Test-12

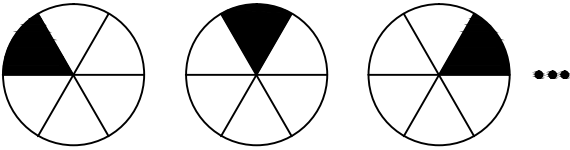
5.



Aşağıdaki şekillerden hangisi yukarıda verilen şekil ile aynıdır ?



6.



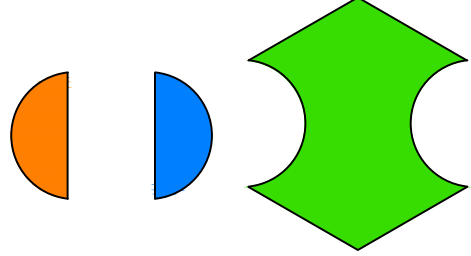
1. Şekil 2. Şekil 3. Şekil ...

Yukarıda verilen şekil dizisi belli bir kurala göre sıralanmıştır.

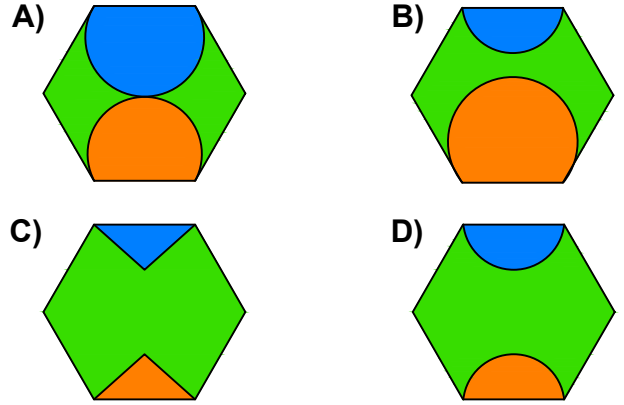
Bu kurala göre birinci şekil kaçınıcı şekilde yenilenir?

- A) 5 B) 6
C) 7 D) 8

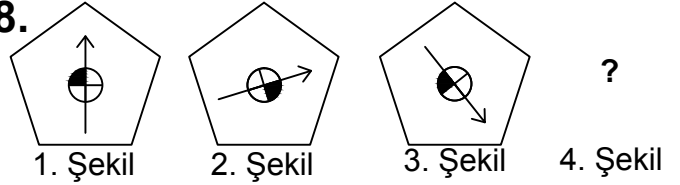
7.



Yukarıda verilen parçalar ile aşağıdaki şekillerden hangisi oluşturulabilir ?



8.



Yukarıda verilen dizi bir sıraya göre dizilmiştir. Buna göre "?" yerine hangi şekil gelmelidir?

