
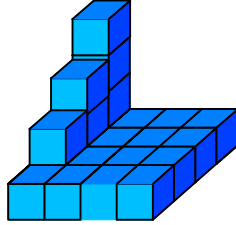




Ad : \_\_\_\_\_  
Soyad : \_\_\_\_\_  
Sınıf: \_\_\_\_\_ No: \_\_\_\_\_

## Test-12

1.  → 1 birim küp

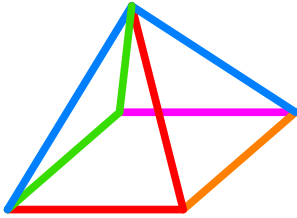


Yukarıda verilen şekil aynı büyüklükteki küp bloklardan oluşmaktadır.

Şekilde toplam kaç küp vardı?


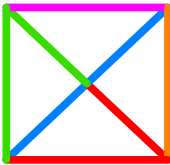

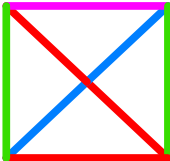
- A) 20                      B) 21  
C) 22                      D) 23

2.

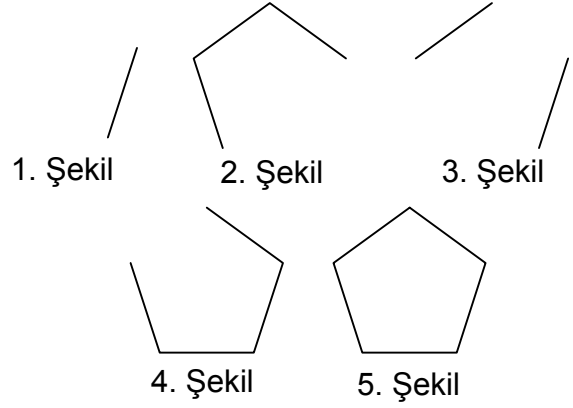


Yukarıda üç boyutlu bir geometrik cismin resmi gözükmemektedir.

Bu şeklin yukarıdan görünüşü aşağıdaki şekillerden hangisidir?

- A)                       B)   
C)                       D) 

3.




Yukarıda verilen dizi 1. şekil başlangıç olmak üzere belli bir sıraya göre dizilmiştir.

**Buna göre dizinin bozulmaması için hangi iki şekil yer değiştirmelidir ?**

- A) 2 - 3                      B) 3 - 5  
C) 2 - 4                      D) 3 - 4

4.



Yukarıdaki resmin bir parçası çıkarılmıştır.  
**Çıkarılan parça aşağıdakilerden hangisidir?**

- A)                       B)   
C)                       D) 