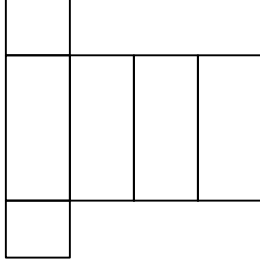




Ad : _____
Soyad : _____
Sınıf: _____ No: _____

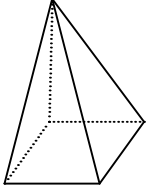
Test-11

5.

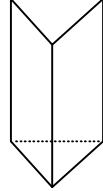


Yukarıda verilen şeklin kapalı durumu aşağıdakilerden hangisidir ?

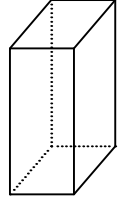
A)



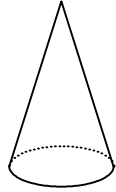
B)



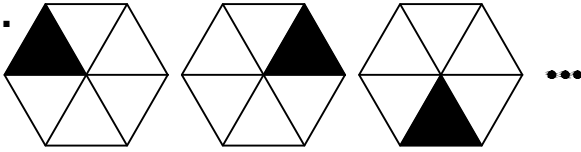
C)



D)



6.



1. Şekil

2. Şekil

3. Şekil

Yukarıda verilen şekil dizisi belli bir kurala göre sıralanmıştır.

Bu kurala göre birinci şekil kaçınıcı şekilde yenilenir?

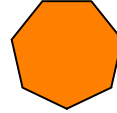
A) 3

B) 4

C) 5

D) 6


7.



1. Şekil



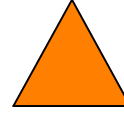
2. Şekil



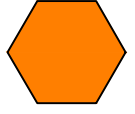
3. Şekil



4. Şekil



5. Şekil



6. Şekil

Yukarıda verilen dizi 1. şekil başlangıç olmak üzere belli bir sıraya göre dizilmiştir.

Buna göre dizinin bozulmaması için hangi iki şekil yer değiştirmelidir ?

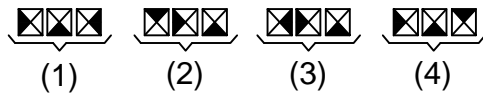
A) 2 - 5

B) 3 - 5

C) 3 - 4

D) 2 - 6

8.



Yukarıda verilen dizi bir sıraya göre dizilmiştir.
Dizilerden sırayı bozan hangisidir?

A) 1

B) 2

C) 3

D) 4