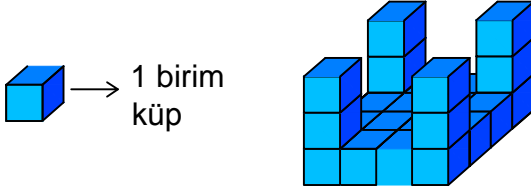




Test-10

13.




Yukarıda verilen şekil aynı büyüklükteki küp bloklardan oluşmaktadır.

Şekilde toplam kaç küp vardı?

- A) 22 B) 24
C) 25 D) 26

14.

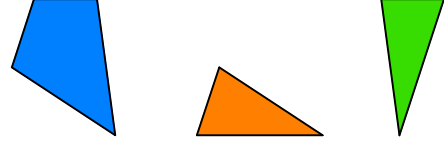


Yukarıdaki şekiller soldan sağa belli bir kurala göre dizilmiştir.

Buna göre "?" olan kutucuğa aşağıdakilerden hangisi gelmelidir ?

- A) B)
C) D)

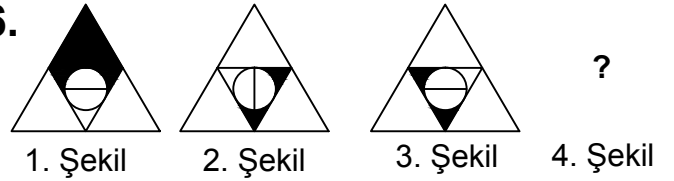
15.



Yukarıda verilen parçalar ile aşağıdaki şekillerden hangisi oluşturulabilir ?

- A) B)
C) D)

16.



Yukarıda verilen dizi bir sıraya göre dizilmiştir. Buna göre "?" yerne hangi şekil gelmelidir?

- A) B)
C) D)