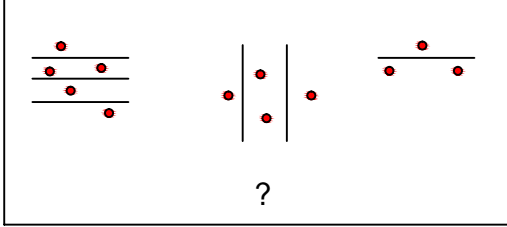




## Test-10

5.




Yukarıdaki şekil grubu ortak bir özelliğe göre sıralanmıştır.

Buna göre "?" olan kısma aşağıdaki şekillerden hangisi gelmelidir?

- A) B)   
C) D)

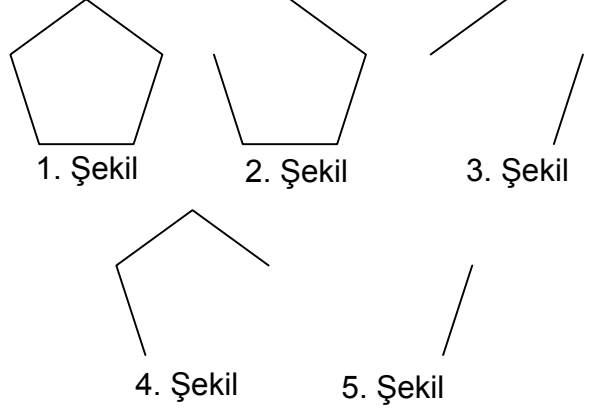
6.



Yukarıdaki resmin bir parçası çıkarılmıştır.  
Çıkarılan parça aşağıdakilerden hangisidir?

- A) B)   
C) D)

7.



Yukarıda verilen dizi 1. şekil başlangıç olmak üzere belli bir sıraya göre dizilmiştir.

Buna göre dizinin bozulmaması için hangi iki şekil yer değiştirmelidir ?

- A) 2 - 5 B) 3 - 5  
C) 2 - 4 D) 3 - 4

8. Bir şeklin etrafında döndürülerek oluşturulan aşağıdaki şekillerden hangisi diğerlerinden farklıdır ?

