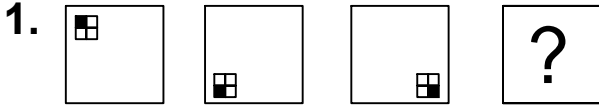




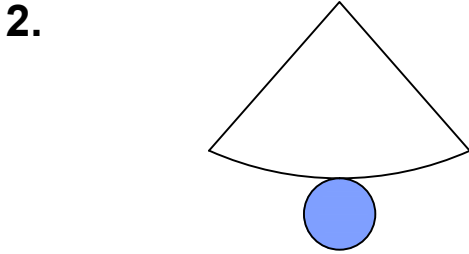
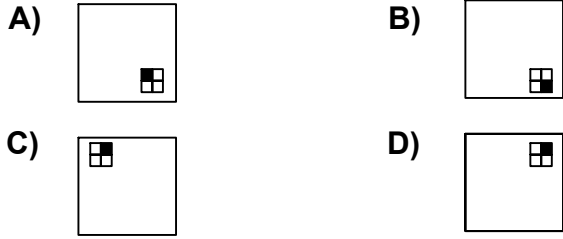
Ad : \_\_\_\_\_  
Soyad : \_\_\_\_\_  
Sınıf: \_\_\_\_\_ No: \_\_\_\_\_

## Test-10

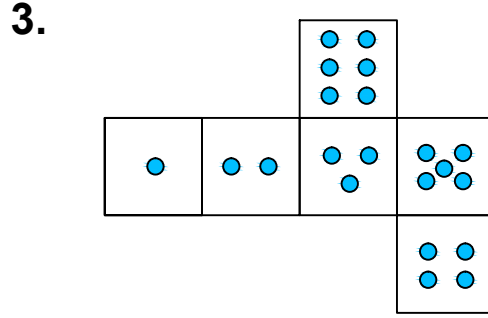
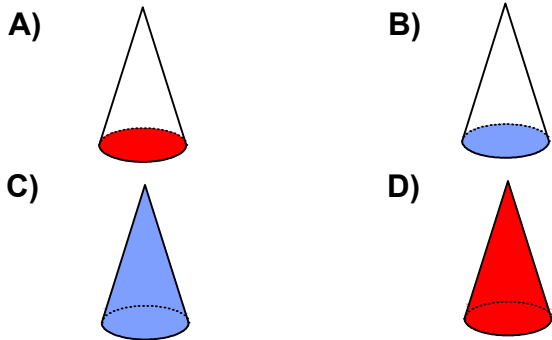


Yukarıda verilen şekiller bir kurala göre sonlu bir şekil dizisi oluşturmaktadır.

Buna göre "?" yerine hangi seçenekteki şekil getirilmelidir?

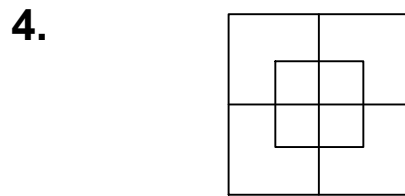
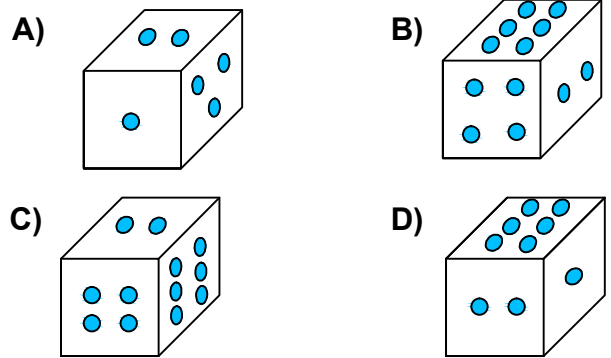


Yukarıda verilen şeklin kapalı durumu aşağıdakilerden hangisidir ?



Yukarıda verilen şekil kapatıldığında bir küp oluşmaktadır.

Bu küp aşağıdakilerden hangisi olabilir?



Yukarıda verilen şekilde kaç tane kare olmayan dikdörtgen vardır?

- A) 7 B) 8  
C) 9 D) 10