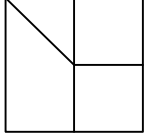




Ad : _____
Soyad : _____
Sınıf: _____ No: _____

Test-1

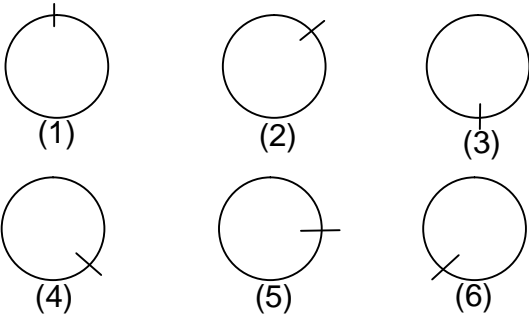
8.



Yukarıda verilen şeklin oluşması için gerekli parçalar hangi seçenekte verilmiştir?

- A) B)
- C) D)

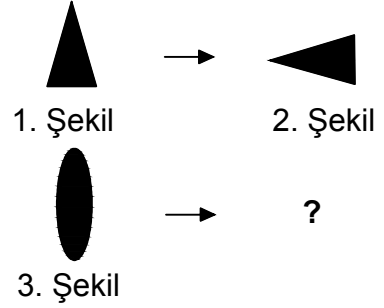
10.



Yukarıda numaralanmış şekillerin sonlu bir dizi oluşturmaları için hangi ikisi yer değiştirilmelidir?

- A) 2 - 4 B) 3 - 5
C) 3 - 4 C) 4 - 6

11.

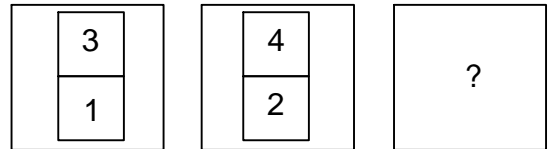


1. şekil ve 2. şekil arasında bir ilişki bulunmaktadır.

Benzer ilişki 3. şekil ile hangisi arasında vardır

- A) B)
C) D)

12.



Yukarıda verilen şekiller bir kurala göre dizi oluşturmaktadır.

Buna göre "?" yerine hangi şekil gelmelidir?

- A) B)
C) D)