

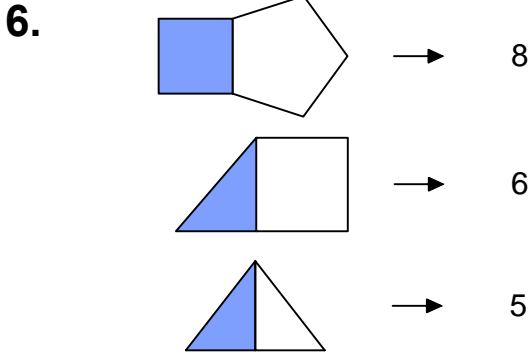



Ad : _____
Soyad : _____
Sınıf: _____ No: _____


Test-1

5. Aşağıdaki şekillerde verilen şekillerden biri diğerlerinden farklıdır.

Farklı olan şekil hangisidir?



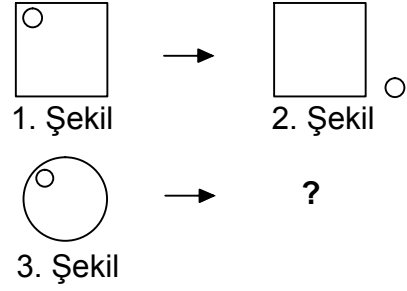
Yukarıdaki şekil - sayı eşleşmesine göre



eşleşmesinde " ? " yerine hangisi getirilmelidir?

- A) 6
B) 7
C) 8
D) 9

7.



1. şekil ve 2. şekil arasında bir ilişki bulunmaktadır.

Benzer ilişki 3. şekil ile hangisi arasında vardır



8. Aşağıdaki seçeneklerde verilen şekiller çizgi boyunca katlandığında üst üste gelen (çakışan) şekil hangisidir.

