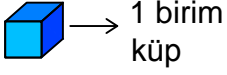




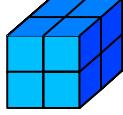
Ad : _____
Soyad : _____
Sınıf: _____ No: _____

Test-1

1.



1 birim
küp

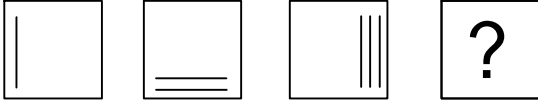


Yukarıda verilen şekil aynı büyüklükteki küp bloklardan oluşmaktadır.

Şekilde toplam kaç küp vardı?

- A) 8 B) 4
C) 10 D) 6

2.

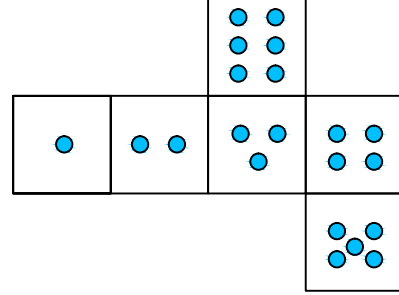


Yukarıda verilen şekiller bir kurala göre sonlu bir şekil dizisi oluşturmaktadır.

Buna göre "?" yerine hangi seçenekteki şekil getirilmelidir?

- A) B)
C) D)

3.

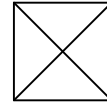


Yukarıda verilen şekil kapatıldığında bir küp oluşmaktadır.

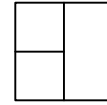
Bu küp aşağıdakilerden hangisi olabilir?

- A) B)
C) D)

4.



1. Şekil



2. Şekil

Yukarıda verilen şekiller üst üste getirilmektedir.

Oluşan yeni şekil aşağıdakilerden hangisi olabilir?

- A) B)
C) D)