



Ad : _____
Soyad : _____
Sınıf: _____ No: _____

Test-59

17. Bir sepetteki meyvelerden 11 tanesini yendiğinde geriye 9 meyve kalmıştır. Buna göre ilk başta bu tabakta toplam kaç meyve vardır?

- A) 15 B) 16
C) 18 D) 20

18. Aşağıdakilerden hangisinde tavşan çantanın yanındadır?

- A)  B) 
C)  D) 

19. Murat'ın 70 lirası vardı, 30 lirasını kardeşine verirse kaç lirası kalır?

- A) 40 B) 30
C) 50 D) 60





20. Aşağıdaki şıklarda 3 adet sayı gruplarından oluşan şıklar verilmiştir. Bu şıklardan hangisinde sayılar küçükten büyüğe doğru sıralanmıştır?

- A) 16 - 13 - 17 B) 30 - 90 - 10
C) 17 - 18 - 19 D) 61 - 28 - 48

21. 26 sayısı aşağıdakilerden hangisinden büyüktür?

- A) 34 B) 21
C) 47 D) 56

22. Aşağıdaki şekillerden hangisi küpe benzer?

- A)  B) 
C)  D) 

23. Bahçedeki kuşlardan 15 tanesi uçtukten sonra geriye 25 kuş kalmıştır. Buna göre ilk başta bahçede kaç kuş vardır?

- A) 40 B) 35
C) 30 D) 45

24. I -) $6 + 4 = 8$
II-) $8 - 3 = 5$
III-) $5 + 6 = 16$

Yukarıda verilen işlemlerden hangileri doğrudur ?

- A) Yalnız II B) I ve III
C) I ve II D) Yalnız III