



Ad : _____
Soyad : _____
Sınıf: _____ No: _____

Test- 47

9.
$$\begin{array}{r} 16 \\ -11 \\ \hline ? \end{array}$$

Yukarıdaki çıkarma işleminin sonucu kaçtır ?

- A) 3 B) 5
C) 6 D) 7

10. Salih şimdi 18 yaşında olduğuna göre 11 sene önce kaç yaşındaydı?

- A) 8 B) 9
C) 10 D) 7

11. Aşağıda verilen çıkarma işlemlerinden hangisinin sonucu 3 olur?

- A) $8-3=?$ B) $6-3=?$
C) $9-4=?$ D) $6-2=?$

	Sabah Kahvaltısı	Öğlen Yemeği	Akşam Yemeği
Pazartesi	Peynir	Köfte	Çorba
Salı	Zeytin	Tavuk	Salata
Çarşamba	Yumurta	Fasulye	Meyve
Perşembe	Peynir	Nohut	Portakal suyu
Cuma	Yumurta	Patlıcan	Süt
Cumartesi	Reçel	Kabak	Çorba
Pazar	Bal	Isphanak	Salata









12. Yukarıda verilen diyet programına göre akşam yemeklerinde kaç gün çorba vardır?

- A) 1 B) 2
C) 3 D) 4

13. Kırtasiyede bir kalem 4 TL, bir silgi 5 TL'dir. Buna göre 2 kalem ve bir silgi almak için kaç TL vermem gereklidir?

- A) 11 B) 12
C) 14 D) 13

14. 15 TL olan bir oyuncak almak için aşağıdakilerden hangisinde olan paraları oyuncakçıya vermeliyiz?

- A)  B) 
 
C)  D) 
 

15. Sinan hikaye kitabının birinci gün 12, ikinci gün 4 sayfasını okumuştur. Geriye 6 sayfa kaldığına göre hikaye kitabı toplam kaç sayfadır?

- A) 15 B) 22
C) 21 D) 23

16. Aşağıda verilen sayılar ve okunuşlarından yanlış olan hangisidir?

- A) 53:otuz beş B) 26:yirmi altı
C) 19:on dokuz D) 48:kırk sekiz