







Test- 40

9.
$$\begin{array}{r} 17 \\ - 2 \\ \hline ? \end{array}$$
- Yukarıdaki çıkarma işleminin sonucu kaçtır ?
- A) 16 B) 15
C) 14 D) 13

10. Defne'nin 15 lirası vardı, 11 lirasını kardeşine verirse kaç lirası kalır?
- A) 5 B) 6
C) 4 D) 8

11. Aşağıdaki sayılardan hangisi en küçüktür ?
- A) 81 B) 90
C) 85 D) 88

12. Aşağıdaki şekillerden hangisi üçgen prizmaya benzer?
- A)  B) 
- C)  D) 

13. Bir meyve tabağında 5 şeftali, 10 elma, 15 kiraz vardır. Buna göre bu tabakta toplam kaç meyve vardır?

- A) 25 B) 30
C) 35 D) 40

14. 70 TL olan bir ayakkabı almak için aşağıdakilerden hangisinde olan paraları markete vermeliyiz?

- A)  B) 
 
- C)  D) 
 

15. Ceren ve ablasının yaşları toplamı 16 dir. kardeşleri ise 6 yaşındadır. Buna göre üç kardeşin yaşları toplamı kaç olur ?

- A) 20 B) 18
C) 22 D) 16

16. İkişer ikişer sayarken 10'den sonra hangi sayı gelir?

- A) 11 B) 13
C) 12 D) 8