







Ad : _____
Soyad : _____
Sınıf: _____ No: _____

Test-11

17. Bir sepette 5 tane elma, 8 tane armut vardır. Bu sepetten kaç tane armut alınırsa elma ve armutların sayısı eşit olur?
- A) 7 B) 5
C) 13 D) 3
18. 7 sayısı aşağıdakilerden hangisinde yazılan sayıların arasındadır?
- A) 2-.....-6 B) 4-.....-6
C) 8-.....-10 D) 6-.....-9
19. Beyza Türkçe sınavında 8 soruyu doğru 6 soruyu yanlış cevaplamıştır. 4 soruyu ise boş bırakmıştır. Buna sınavda toplam kaç soru vardır?
- A) 18 B) 20
C) 19 D) 23
20. Aşağıda verilen çıkarma işlemlerinden hangisinin sonucu 9 olur?
- A) $10-3=?$ B) $8-6=?$
C) $11-2=?$ D) $7-2=?$
21. Güneş'in 13 mavi, 7 kırmızı balonu vardır. Balonlarından 15 tanesi patlırsa geriye kaç balonu kalır?
- A) 5 B) 6
C) 7 D) 8
22. Aşağıda verilen şekillerden hangisi en kısadır?
- A) 
B) 
C) 
D) 
23. Nehir'in 7, Gizem'in 11, Duru'nun ise 14 tane bebeği vardır. Nehir ile Gizem'in bebeklerinin toplamı Duru ile Gamze'nin bebeklerinin toplamına eşit olduğuna göre Gamze'nin kaç tane bebeği vardır?
- A) 5 B) 6
C) 7 D) 4
24. Onar onar sayarken 40'dan önce hangi sayı gelir?
- A) 39 B) 50
C) 15 D) 30